

KİTAPÇIK TÜRÜ

K

T.C.
MİLLÎ EĞİTİM BAKANLIĞI
ÖLÇME, DEĞERLENDİRME VE
SINAV HİZMETLERİ GENEL MÜDÜRLÜĞÜ

SERTİFİKA TÜRÜ

H

3. GRUP

MOTORLU TAŞIT SÜRÜCÜ ADAYLARI SINAVI
14/06/2014

Ad ve Soyadı :
T.C. Kimlik No :

DERSLER	SORU SAYISI	TOPLAM SORU SAYISI	TOPLAM SÜRE (DAKİKA)
İLK YARDIM BİLGİSİ	15	40	60
TRAFİK VE ÇEVRE BİLGİSİ	25		

ADAYLARIN DİKKATİNE!

1. Sınav saat **14.30**'da başlayacaktır. Sınav süresince dışarı çıkmayınız.
2. Sınav sırasında sözlük, hesap cetveli veya makinesi, çağrı cihazı, cep telefonu, telsiz, radyo gibi elektronik iletişim araçlarını yanınızda bulundurmuyunuz. Bu araçları kullanmanız ve kopya çekmeye teşebbüs etmeniz hâlinde sınavınız geçersiz sayılacaktır.
3. Başvuru şartlarını taşımadığınız hâlde sınava girmeniz, kopya çekmeniz, cevap kâğıdınızdaki fotoğraf ve bilgiler ile geçerli kimlik belgenizdeki (nüfus cüzdanı, pasaport veya sürücü belgenizdeki) bilgilerde uyumsuzluk olması, başka adayın sınav evrakını kullanmanız, geçerli kimlik belgenizi ve sınav giriş belgenizi ibraz edemediğiniz durumlarda sınavınız geçersiz sayılacaktır.
4. Elektronik iletişim araçlarıyla kopya çekmeniz, yerinize başka birinin sınava girdiğinin belirlenmesi veya organize olarak kopya çekme eylemine karıştığınızın tespit edilmesi durumunda bir yıl süreyle sınava alınmayacaksınız.
5. Sınavın değerlendirilmesi aşamasında, bilgisayar ortamında yapılan kopya analizinde ikili veya toplu kopya tespiti hâlinde sınavınız geçersiz sayılacaktır.

CEVAP KÂĞIDI VE SORU KİTAPÇIĞI İLE İLGİLİ AÇIKLAMALAR

1. Cevap kâğıdınızdaki bilgilerin doğruluğunu kontrol ediniz. İlgili yere ad ve soyadınızı mürekkepli kalemle yazarak imzalayınız.
2. **Adınıza düzenlenmiş cevap kâğıdı üzerinde belirtilen sertifika ve kitapçık türünüze uygun soru kitapçığını almamış iseniz, bunu salon görevlilerine bildirerek uygun kitapçıkla değiştirilmesini sağlamakla yükümlüsünüz. Bu durumu salon görevlilerine bildirmedığınız ya da geç bildirdiğinizde tüm sorumluluk size ait olacaktır.**
3. Cevap kâğıdı üzerinde kodlamalarınızı kurşun kalemle yapınız.
4. Değiştirmek istediğiniz bir cevabı, yumuşak silgiyle cevap kâğıdını örselemeden temizce siliniz ve yeni cevabınızı kodlayınız.
5. Soru kitapçığının sayfalarını kontrol ediniz, baskı hatası var ise değiştirilmesini sağlayınız.
6. Soru kitapçığının ön yüzündeki ilgili yerlere ad, soyad ve T.C. kimlik numaranızı yazınız.
7. Her sorunun dört seçeneğinden sadece biri doğrudur. Doğru seçeneği, cevap kâğıdınızın ilgili sütununa soru numarasını dikkate alarak yuvarlağın dışına taşımadan kodlayınız. **Soru kitapçığı üzerinde yapılan cevaplandırmalar dikkate alınmayacaktır.**
8. Yanlış cevaplarınız dikkate alınmadan sadece doğru cevaplarınız üzerinden puanlama yapılacaktır.
9. Her ders kendi içerisinde **100** puan üzerinden değerlendirilecektir. Başarılı sayılabilmemiz için her dersten ayrı ayrı en az **70** puan almanız gerekir.
10. Soruları ve sorulara verdiğiniz cevapları, yanınızda götürmek amacıyla kaydetmeyiniz; hiçbir şekilde dışarı çıkarmayınız.
11. **Sınav bitiminde, sınav giriş belgesi, soru kitapçığı ve cevap kâğıdını salon görevlilerine teslim ediniz.**

Arka kapaktaki açıklamalara geçiniz.

1. Aşağıdakilerden hangisi ilk yardımın temel kurallarından biri değildir?

- A) Tıbbi yardım gelene kadar hiçbir uygulama yapılmamalıdır.
- B) Kurtarıcı emin olmadığı uygulamalardan kaçınmalıdır.
- C) Hızlı, sakin ve telaşa kapılmadan yapılmalıdır.
- D) Kurtarıcı önce kendini emniyete almalıdır.

2. Aşağıdaki organlardan hangisi karın bölgesinde bulunur?

- A) Kalp
- B) Mide
- C) Yutak
- D) Akciğer

3. İlk yardımcı, kaza yapan aracın içerisinden yaralıları çıkarmadan önce aşağıdakilerden hangisine özellikle dikkat etmelidir?

- A) Aracın modeline
- B) Yaralıların cinsiyetlerine
- C) Yaralıların üzerinde bulunan giysilere
- D) Aracın yanma veya devrilme tehlikesinin olup olmadığına

4. Aşağıdakilerden hangisi solunum durması sonucunda gerçekleşir?

- A) Kandaki karbondioksit oranının düşmesi
- B) Kanın kalbe gelme hızının artması
- C) Kandaki oksijen oranının düşmesi
- D) Vücut sıcaklığının yükselmesi

5. • Solunum yolu açık tutulur.
• Solunum ve dolaşım desteklenir.

Yukarıda verilenlerin kazazedeye uygulanmasının amacı aşağıdakilerden hangisidir?

- A) Trafik kazalarının azaltılması
- B) Temel yaşam desteğinin sağlanması
- C) Çok sayıda yaralının olduğunun bildirilmesi
- D) Dinlenmiş olarak taşıt kullanmasının sağlanması

6. Kendiliğinden meydana gelen burun kanamasında, hastaya aşağıdaki pozisyonlardan hangisi verilmelidir?

- A) Oturuş pozisyonu
- B) Baş-çene pozisyonu
- C) Yüzüstü yatış pozisyonu
- D) Sırtüstü yatış pozisyonu

7. Kanamanın fazla olduğu bacak yaralanmalarında, kanamayı azaltmak için basınç uygulanacak bölge aşağıdakilerden hangisidir?

- A) Karnın ön üst kısmı
- B) Dizin ön üst kısmı
- C) Bacak dış kısmı
- D) Kasık iç kısmı

8. Hangi durumdaki kazazedeye, göğüs kemiği 5 cm aşağıya inecek şekilde basınç uygulanır?

- A) Kalbi duran
- B) Kalbi düzensiz çalışan
- C) Solunum sayısı azalan
- D) Solunumu düzensiz olan

9. Batan cisim yara üzerinde duruyorsa, aşağıdakilerden hangisi uygulanır?

- A) Çıkarılır ve yaraya tentürdiyot dökülür.
- B) Çıkarılır ve yaralı hastaneye sevk edilir.
- C) Dışarıda kalan kısım kesilir ve yara sarılır.
- D) Çıkarılmadan yaralı hastaneye sevk edilir.

10. Tehlikenin olmadığı kaza yerinde, boyun yaralanması olan kazazede hangi uygulamadan sonra araçtan çıkartılır?

- A) Çene göğüse degecek şekilde baş öne eğildikten sonra
- B) Boyun ağrılarını dindirici ilaç verildikten sonra
- C) Boynuna boyunluk takıldıktan sonra
- D) Boyun hareketleri yaptırıldıktan sonra

11. Kırık, çıkık, burkulma gibi kemik ve eklemi ilgilendiren olaylarda ilk yardımcının temel hedefi ne olmalıdır?

- A) Kırık bölgenin hareket ettirilmesini sağlamak
- B) Kol ya da bacakta bozulmuş şekli düzeltmeye çalışmak
- C) Kazazedenin oturması ya da sağa sola kıvıldmasına izin vermek
- D) Sorunlu bölgeyi hareketsiz duruma getirerek kazazedenin durumunun kötüleşmesini önlemek

12. Oynar eklemi oluşturan kemik uçlarının birbirinden ayrılmasına ne ad verilir?

- A) Kırık
- B) Çıkık
- C) İncinme
- D) Burkulma

13. Aşağıdaki kazazedelerden hangisi kaza yerinden ilk önce taşınmalıdır?

- A) Ölmüş olan
- B) Ayağında çıkık olan
- C) Solunum zorluğu çeken
- D) Birinci derece yanığı olan

14. Güneş çarpması olan kişiye aşağıdaki uygulamalardan hangisi yapılmalıdır?

- A) Serin bir yere alınarak vücut ısısı düşürülmeli
- B) Üstü örtülerek terlemesi sağlanmalı
- C) Sıcak içecekler verilmeli
- D) Sıcak duş yaptırılmalı

15. I- A2 sınıfı
II- B sınıfı (hususî araç)
III- F sınıfı
IV- G sınıfı

Yönetmeliğe göre işitme cihazı ile belirli bir duyma yeterliliğine ulaşan sürücü, yukarıda verilen sürücü belgelerinden hangileri ile araç kullanabilir?

- A) I ve II
- B) I ve III
- C) II ve III
- D) III ve IV

İLK YARDIM BİLGİSİ TESTİ BİTTİ.
TRAFİK VE ÇEVRE BİLGİSİ TESTİNE GEÇİNİZ.

1. Bir aracın yolcu indirmek amacıyla kısa süreli durdurulmasına ne denir?

- A) Durma B) Bekleme
C) Duraklama D) Park etme

2. Işıklı trafik işaret cihazında kırmızı ile birlikte sarı ışığın yanması sürücüyeye aşağıdakilerden hangisini bildirir?

- A) Geri dönmeyi
B) Motoru durdurmasını
C) Harekete hazırlanmasını
D) Biraz sonra kırmızı ışığın yanacağını

3. Şekildeki trafik görevlisinin yapmış olduğu işaretin sürücüler için anlamı nedir?

- A) Geç
B) Hızlan
C) Yavaşla
D) Sağa yanaş ve dur



4. Şekildeki trafik işareti aşağıdakilerden hangisine yaklaşıldığını bildirir?

- A) Dönel kavşağa
B) Kontrolsüz kavşağa
C) Demir yolu geçidine
D) Ana yol-tali yol kavşağına



5. Şekildeki trafik işareti aşağıdakilerden hangisine yaklaşıldığını bildirir?

- A) Demir yolu alt geçidine
B) Demir yolu üst geçidine
C) Kontrollü demir yolu geçidine
D) Kontrolsüz demir yolu geçidine



6. Aşağıdaki trafik işaretlerinden hangisi düşük banket anlamındadır?

- A) B)
- C) D)

7. Şekildeki trafik işareti aşağıdakilerden hangisini yasaklar?

- A) Geri gitmeyi
B) Sola dönmeyi
C) U dönüşü yapmayı
D) Ada etrafında dönmeyi



8. Aşağıdaki trafik işaretlerinden hangisi, öndeki taşıtı geçme yasağının sona erdiğini bildirir?

- A) B) C) D)

9. Taşıt yolu üzerine çizilen şekildeki çizgilerin anlamı nedir?

- A) Yaya geçidi
B) Sağa tehlikeli viraj
C) Taralı alana girilmez.
D) Taralı alan içine park edilebilir.



10. Ticari amaçlı yük veya yolcu taşımacılığında kullanılan araç resimleri verilmiştir.



Bu araçlardan hangilerini şehirler arasında kullanan bir şoförün 24 saat süre içerisinde; devamlı olarak 4,5 saatten fazla sürmesi yasaktır?

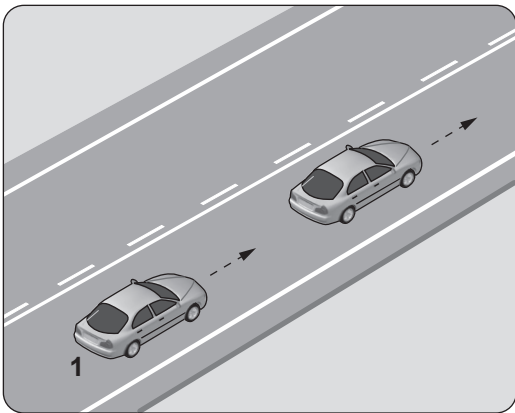
- A) Yalnız I B) I ve II
C) II ve III D) I, II ve III

11. Aksine bir işaret yoksa şekildeki aracın yerleşim yeri içindeki azami hızı saatte kaç kilometredir?



- A) 50 B) 70 C) 80 D) 90

12. Şekildeki 1 numaralı araç 80 km/saat hızla seyrederken önündeki araca en fazla kaç metre yaklaşabilir?

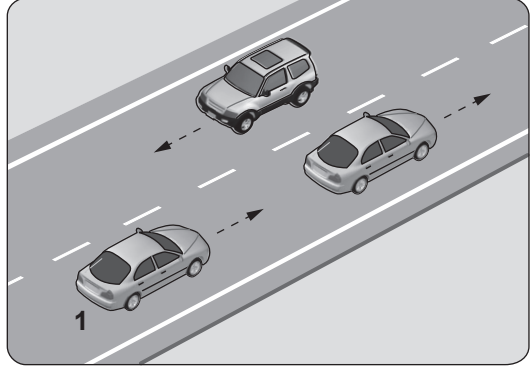


- A) 10 B) 20 C) 30 D) 40

13. Dönel kavşakta, geriye dönüşlerde aşağıdakilerden hangisinin yapılması yasaktır?

- A) Ada etrafında dönerken gereksiz yere şerit değiştirmek
B) Dönüş sonrası hızının gerektirdiği şeride girmek
C) Orta adaya bitişik şeritten dönüşe geçmek
D) Sağa ve sola dönüş kurallarına uymak

- 14.



Şekildeki durumda, öndeki aracı geçmek isteyen 1 numaralı araç sürücüsünün aşağıdakilerden hangilerini yapması doğrudur?

- I- Önündeki araç ile takip mesafesini azaltması
II- Geçiş yapacağı şerit boş olduğunda sola dönüş lambasıyla işaret vermesi
III- Geçiş yapacağı araç sürücüsünü korna veya selektör yaparak uyarması

- A) Yalnız I B) I ve II
C) II ve III D) I, II ve III

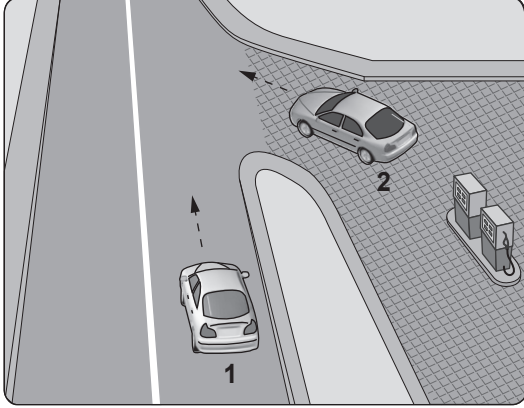
15. Trafik kazalarında araçlara ait kusurlardan bazıları şunlardır:

- Kusurlu far
- Kusurlu rot
- Kusurlu fren
- Kusurlu direksiyon

Bu kusurlara bağlı trafik kazalarını önlemek için aşağıdakilerden hangisinin yapılması uygun olur?

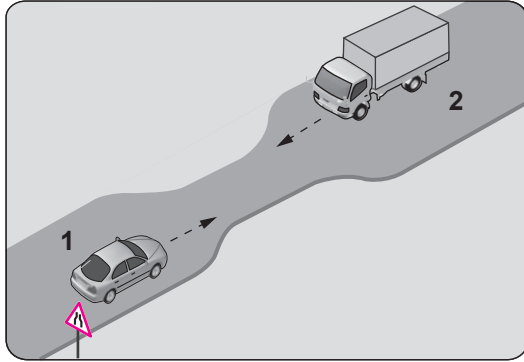
- A) Araç yakıtının zamanında alınması
B) Araç bakımının zamanında yapılması
C) Motor yağının zamanında değiştirilmesi
D) Seyir sırasında saatte bir mola verilmesi

16. Şekildeki akaryakıt istasyonundan çıkmak isteyen 2 numaralı aracın sürücüsü ne yapmalıdır?



- A) Geçiş hakkını kendi kullanmalı
B) Hızlanarak yoluna devam etmeli
C) 1 numaralı aracın geçmesini beklemeli
D) Korna çalıp 1 numaralı aracı durdurmalı

17. Şekildeki gibi eğimsiz iki yönlü dar yoldaki karşılaşmada 2 numaralı aracın sürücüsü ne yapmalıdır?

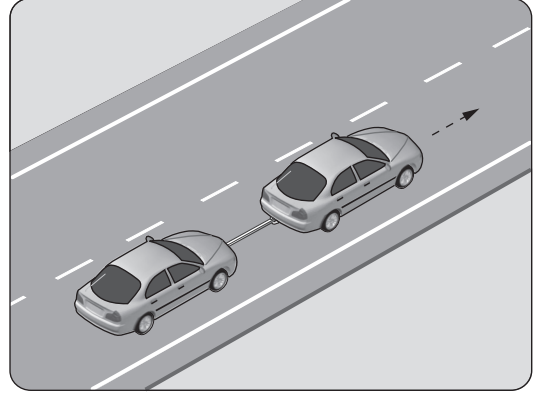


- A) U dönüşü yapmalı
B) 1 numaralı araca yol vermeli
C) İlk geçiş hakkını kendisi kullanmalı
D) 1 numaralı aracın sürücüsünü ikaz edip durdurmalı

18. Görevli kişi veya ışıklı trafik işareti bulunmayan, ancak trafik işaretleri ile belirlenmiş yaya ve okul geçitlerinin bulunduğu yerlerde geçiş önceliği aşağıdakilerden hangisine aittir?

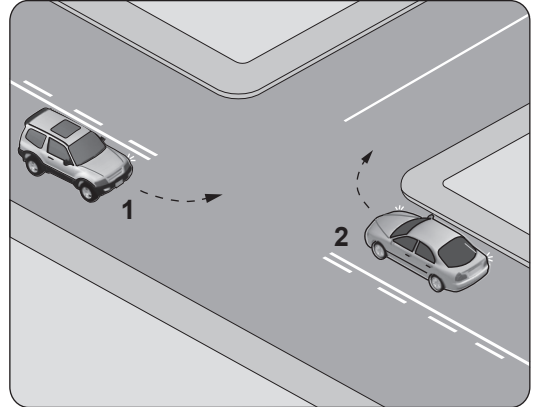
- A) Yayaalara
B) Otomobillere
C) Okul taşıtlarına
D) Kamp taşıtlarına

19. Servis freni bozuk araçların şekildeki gibi "çeki demiri" ile çekilmesi sırasında, çeken aracın saatteki hızı en fazla kaç kilometre olmalıdır?



- A) 15
B) 20
C) 25
D) 30

20. Şekle göre kontrolsüz kavşakta karşılaşan araçlardan hangisi ilk geçiş hakkını kullanmalıdır?



- A) 1 numaralı araç
B) 2 numaralı araç
C) Hızı az olan araç
D) Hızı fazla olan araç

21. Araçların orijinal sistemlerinde yer alan egzoz borusu ve susturucunun korunması ile aşağıdakilerden hangisi amaçlanır?

- A) Gürültü kirliliğinin azaltılması
B) Trafik yoğunluğunun azaltılması
C) Temiz olmayan yakıt kullanılması
D) Kazalara karşı güvenliğin artırılması

22. Aşağıdakilerden hangisinin kara yollarında geceleri seyrederken yapılması yasaktır?

- A) Sis ışıklarının sadece sis, kar ve şiddetli yağmur sebebiyle görüşün yetersiz olduğu hallerde kullanılması
- B) Öndeki araç yakından izlenirken kısa hüzmeli farların yakılması
- C) Geçme sırasında öndeki aracın ışıkla uyarılması
- D) Karşılaşmalarda ışıkların söndürülmesi

23. Aşağıdaki araçlardan hangisine koltuk ferdi kaza sigortası yaptırılması zorunludur?

- A) Çekici
- B) Otobüs
- C) Otomobil
- D) Kamyonet

24. Aşağıdaki araçlardan hangisinde ilk yardım çantası bulundurulması mecburi değildir?

- A) Otobüs
- B) Minibüs
- C) Otomobil
- D) Motosiklet

25. B sınıfı sürücü belgesine sahip bir sürücünün kullanabileceği diğer sürücü belgesi sınıfı aşağıdakilerden hangisidir?

- A) A2
- B) E
- C) F
- D) G

TEST BİTTİ.
CEVAPLARINIZI KONTROL EDİNİZ.

SINAV SÜRESİNCE UYULACAK KURALLAR

- 1. Adaylar, sınav kurallarına ve salon görevlilerinin tüm uyarılarına uymak zorundadırlar. Kurallara ve uyarılara uymayan adayların sınavları geçersiz sayılacaktır.**
2. Sınav başladıktan sonra adayların salon görevlileri ve birbirleri ile konuşmaları, kalem, silgi vb. şeyleri istemeleri yasaktır.
3. Adaylar sınav süresince, sınav giriş belgesi ile birlikte kimlik belgelerinden birini (nüfus cüzdanı, pasaport veya sürücü belgesi) masalarının üzerinde bulundurmamak zorundadırlar.
- 4. Sınav evraklarını teslim etmeyen, soru kitapçıklarının sayfalarından bir kısmını eksik teslim edenlerin sınavları geçersiz sayılacaktır.**

SALON GÖREVLİLERİNCE SINAV BAŞLAMADAN ÖNCE ADAYLARA YAPILACAK SON UYARI

- Soracağınız bir şey var mı? Varsa şimdi sorunuz.
- Sınav başladıktan sonra sorularınıza cevap verilmeyecektir.
- Başlama zilini bekleyiniz.
- Hepinize başarılar dileriz.

(Salon başkanı başlama ve bitiş saatini tahtaya yazacaktır.)

Bu kitapçığın her hakkı saklıdır. Hangi amaçla olursa olsun, kitapçığın tamamının veya bir kısmının Millî Eğitim Bakanlığı Yenilik ve Eğitim Teknolojileri Genel Müdürlüğü'nün yazılı izni olmadan kopya edilmesi, fotoğraflarının çekilmesi, bilgisayar ortamına alınması, herhangi bir yolla çoğaltılması, yayımlanması veya başka bir amaçla kullanılması yasaktır. Bu yasağa uymayanlar, doğabilecek cezai sorumluluğu ve kitapçığın hazırlanmasındaki mali külfeti peşinen kabullenmiş sayılır.

“BAŞLAYINIZ” DENİLMEDEN SORU KİTAPÇIĞINI AÇMAYINIZ.

14.06.2014 TARİHİNDE YAPILAN MOTORLU TAŞIT SÜRÜCÜ ADAYLARI SINAVI (MTSAS)
K KİTAPÇIĞI CEVAP ANAHTARIDIR

İLK YARDIM BİLGİSİ

TRAFİK VE ÇEVRE BİLGİSİ

1. A
2. B
3. D
4. C
5. B
6. A
7. D
8. A
9. D
10. C
11. D
12. B
13. C
14. A
15. C

1. C
2. C
3. D
4. B
5. D
6. A
7. C
8. B
9. C
10. D
11. A
12. D
13. A
14. C
15. B
16. C
17. B
18. A
19. A
20. B
21. A
22. D
23. B
24. D
25. C